



Adı Soyadı:


Sınıfı: Numarası:

Okulu:

## SOSYAL BİLGİLER TESTİ

1. Bu testte 20 soru vardır.
2. Cevaplarınızı, cevap kâğıdına işaretleyiniz.

1.



James Watt

Buhar makinesini geliştirerek günümüz üretim teknolojisinin bu noktaya gelmesini sağladım.

Metne göre, James Watt aşağıdaki olaylardan hangisinin başlamasına yol açmıştır?

- A) Sanayi İnkılabı      B) Fransız İhtilali  
C) Coğrafi Keşifler      D) Rönesans

2. Türk İslam bilginleri ve çalışma alanları aşağıdaki tabloda verilmiştir:

		Matematik	Coğrafya	Mühendislik	Sosyoloji
I.	İbn-i Haldun	✓			
II.	el-Cezeri			✓	
III.	Piri Reis		✓		
IV.	el-Harezmi				✓

Tablodaki işaretlemelerin doğru olabilmesi için hangileri yer değiştirmelidir?

- A) I ve II      B) I ve IV      C) II ve III      D) III ve IV

3. Bir toplumda bilimsel gelişmelerin artması için aşağıdaki özgürlüklerden hangisinin öncelikle güvence altına alınması gerekir?

- A) Kitle iletişim özgürlüğü  
B) Din ve vicdan özgürlüğü  
C) Düşünce özgürlüğü  
D) Yerleşme ve seyahat özgürlüğü

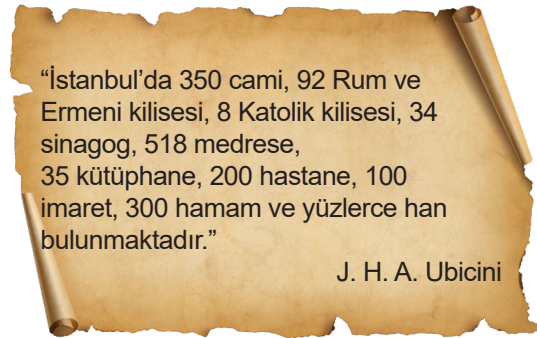
4. Yazının icadı ile ilgili tabloda verilen ifadeler doğru ise "D", yanlış ise "Y" işaretlenecektir.

	BİLGİ	D	Y
I.	Tarihi çağlara girilmiştir.		
II.	Toplumlar arasında etkileşim kolaylaşmıştır.		
III.	Yazıyı ilk bulan uygarlık Fenikeliler olmuştur.		

Buna göre tablonun doğru tamamlanmış hali hangisidir?

	I	II	III
A)	D	Y	D
B)	D	D	Y
C)	D	Y	Y
D)	Y	D	D

5. Aşağıda 1847 yılında İstanbul'a seyahate gelen Fransız seyyahın ifadelerine yer verilmiştir:



Bu bilgiye göre, Osmanlı Devleti ile ilgili aşağıdaki yargılardan hangisine ulaşamaz?

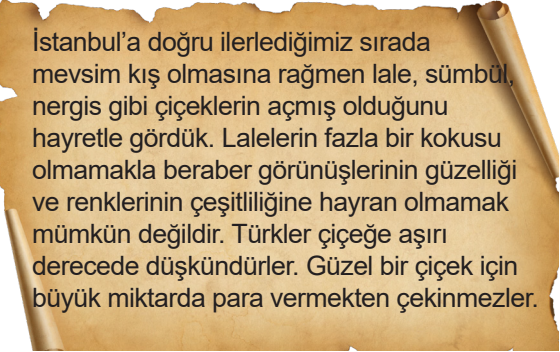
- A) Temel ihtiyaçlara yönelik yapılar inşa edilmiştir.  
B) Hoşgörülü bir toplum yapısı oluşturulmuştur.  
C) Eğitime önem verilmiştir.  
D) Halk arasında inanç birliği sağlanmıştır.



6. **PARŞÖMENİN SERÜVENİ**  
Yazının icadı ile birlikte pek çok depolama aracı kullanılmıştır. Bunlardan biri olan papirüs Mısırlılar tarafından bulunmuştur. Papirüsün kullanımı, uygarlıkların yönetim merkezlerinde fazlaydı. Bu da papirüs ticaretinin gelişimini sağladı. Önceden papirüs satışına izin veren Mısır Kralı Ptolemaios (Tolemyos), Bergama Kralı Eumenes'in (Yumenes) kütüphanesini kiskanınca papirüs satışını yasakladı. Bunun üzerine Bergama Krallığı'nda koyun ve keçi derisinden yapılmış "pergament" (parşömen) icat edildi.

**Metinden hareketle aşağıdaki yorumların hangisi yapılamaz?**

- A) Uygarlıkların rekabeti yeni icatlara yol açmıştır.  
B) Papirüs dünyadaki ilk yazı depolama aracıdır.  
C) Bilginin aktarılmasında kullanılan araçlar çeşitlenmiştir.  
D) Yazı birçok uygarlık tarafından kullanılmaktadır.

7.   
İstanbul'a doğru ilerlediğimiz sırada mevsim kış olmasına rağmen lale, sümbül, nergis gibi çiçeklerin açmış olduğunu hayretle gördük. Lalelerin fazla bir kokusu olmamakla beraber görünüşlerinin güzelliği ve renklerinin çeşitliliğine hayran olmamak mümkün değildir. Türkler çiçeğe aşırı derecede düşkünlüdürler. Güzel bir çiçek için büyük miktarda para vermekten çekinmezler.

**De Busbecq, seyahatnamesinde Türklerin hangi özelliğini anlatmıştır?**

- A) Çalışkanlık B) Estetik  
C) Saygı D) Temizlik

8. I. Çanakkale Şehitliği'ne gezi düzenlenmesi  
II. Devlete ait araziye Fikret Bey'in otel yapması  
III. Ayşe Hanım'ın Kelebekler Vadisi'ni ziyaret etmesi  
IV. Kardelen Hanım'ın toplantı için Almanya'ya gitmesi

**Verilenlerden hangileri yerleşme ve seyahat özgürlüğüne uygun bir örnektir?**

- A) I ve II B) II ve III  
C) I, III ve IV D) I, II, III ve IV

9. Aşağıdaki tabloda bazı göçler ve ilgili oldukları alanlar gösterilmiştir.

Göç Sebebi	Göç Türü
Emirhan, ailesi ile Giresun'a fındık toplamaya gitmiştir .	(I) Mevsimlik göç
Doktor Beyza, tıp alanında çalışmaya İngiltere'ye gitmiştir.	(II) Zorunlu göç
Teknisyen Ali, otomotiv sanayisinde çalışmak için İzmit'e gitmiştir.	(III) İç göç
Ali dede, nüfus mübadelesi gereği Atina'dan Türkiye'ye göç etmiştir.	(IV) Beyin göçü

**Tablodaki bilgilerin doğru olabilmesi için numaralanmış ifadelerden hangileri yer değiştirmelidir?**

- A) I ve III B) II ve III C) III ve IV D) II ve IV

10. **SKOLASTİK DÜŞÜNCEYE GÖRE:**
- Dünya, evrenin merkezindedir.
  - Kilise, evrenle ilgili tüm bilgilere sahiptir.
  - Deney ve gözleme gerek yoktur.
  - Düşünce özgürlüğü yoktur.
  - Bilimsel gelişmelere kapalıdır.
- POZİTİF DÜŞÜNCEYE GÖRE:**
- Dünya, evrenin bir parçasıdır.
  - Bilimsel araştırmalara ihtiyaç vardır.
  - Deney ve gözlem mutlaka gereklidir.
  - Düşünce özgürlüğü vardır.
  - Bilgilerin doğruluğu ispatlanmalıdır.

**Verilen bilgilerden yola çıkarak her iki düşünce karşılaştırıldığında,**

- I. Skolastik düşüncede fikir özgürlüğüne önem verilmektedir.  
II. Pozitif düşünce deney ve gözleme dayanır.  
III. Skolastik düşüncede kilisenin öğretileri, pozitif düşüncede akıl ön plandadır.

**yargılarından hangisi ya da hangilerine ulaşılabilir?**

- A) Yalnız I B) I ve II  
C) II ve III D) I, II ve III



11. Aşağıda yerleşmeyi etkileyen faktörlerden bazıları verilmiştir:

I. Yeryüzü şekilleri	IV. Yer altı kaynakları
II. Ulaşım	V. Hayvancılık
III. Sanayi	VI. Ticaret

Numaralanmış faktörlerden hangileri beşerî faktörler arasında gösterilebilir?

- A) II - III - V - VI                      B) I - III - V - IV  
C) I - II - III - V                        D) II - IV - V - VI
12. Ekonomik faaliyetlerin büyük oranda toprağa bağlı olduğu Ortaçağ Avrupa'sında toprağın yönetimi senyör adı verilen soyluların elindeydi. Toprakları üzerinde yaşayan ve kendilerine sığınan "serf" adını verdikleri köleler, toprağı ekip biçme ve senyörün hizmetinde çalışma karşılığında güvenlik ve barınma gibi temel ihtiyaçlarını karşılamış oluyordu.

Metinde sözü edilen Orta Çağ'a damgasını vurmuş yönetim sisteminin adı nedir?

- A) İkta                                        B) Tımar  
C) Derebeylik                              D) Vakıf

- 13.

Nüfus artışının olumsuz sonuçlarından 3 tanesini söyleyiniz.



Öğretmenin sorusuna verilen cevaplardan hangisi yanlıştır?

- A) Sağlık hizmetleri yetersiz kalır.  
B) İnsanların temel ihtiyaçlarının karşılanması zorlaşır.  
C) Çarpık kentleşme ve altyapı sorunları artar.  
D) İş gücü artar.

- 14.

	Balıkesir'in verimli topraklarında ayçiçeği yetiştiriyorum. Ailem yıllar önce bu topraklara yerleşmiş.
	Köyümüzde iş imkânları kısıtlı olduğu için büyük bir kente yerleşip fabrikada çalışmaya başladım.

Yukarıda açıklaması verilen ifadeler sırası ile yerleşmeyi etkileyen faktörlerden hangileri ile ilişkilendirilebilir?

- A) Ticaret - Sanayi                      B) Tarım - Sanayi  
C) Ulaşım - Turizm                      D) İklim - Ticaret

15. XV - XX. yüzyıllar arasında Avrupa'da yaşanan önemli gelişmelerden bazıları şunlardır:

- Matbaanın icadı
- Dünya'nın yuvarlak olduğunun bilimsel olarak kanıtlanması
- Kütle çekim kanununun ortaya konması

Verilen bilgilerden yola çıkarak aşağıdakilerden hangisine ulaşamaz?

- A) Mezhep birliğinin sağlandığına  
B) Bilimsel gelişmelerin hızlandığına  
C) Düşünce ve bilgilerin yayıldığına  
D) Bilimsel birikimlerin arttığına

- 16.

- Toprak düzenli bir şekilde ekilerek üretimde süreklilik sağlanmıştır.
- Devlet hazinesine yük olmadan bir ordu oluşturulmuştur.
- Bölgedeki vergilerin düzenli bir şekilde toplanması sağlanmıştır.
- Başkent ve padişahın güvenliği sağlanmıştır.

Yukarıdaki ifadelerden hangisi tımar sisteminin faydaları arasında gösterilemez?

- A)                      B)                      C)                      D)



17.



Ben Ali Kuşçu. Gök cisimlerinin Dünya'ya uzaklığını hesaplayarak Ay'ın haritasını çıkardım. Bu çalışmamdan ötürü NASA, Ay'da bir bölgeye benim ismimi verdi.

Buna göre, Ali Kuşçu'nun hangi alanda çalışma yaptığı söylenebilir?

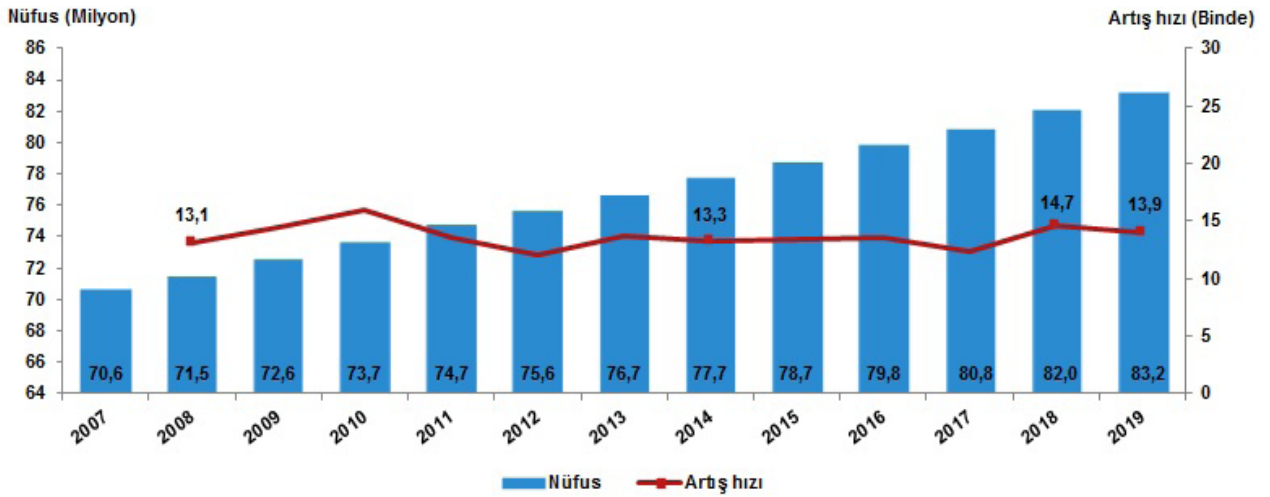
- A) Astronomi                      B) Tıp  
C) Arkeoloji                      D) Coğrafya

18. Benim adım Zübeyir. Bu sene ülkemizde yaşanan savaşlar nedeniyle birçok insan gibi bizim de can güvenliğimiz tehlikedeydi. Türkiye Cumhuriyeti'nin Suriyeli vatandaşlara kapısını açması ile birçok akrabamız, ülkemizden ayrılarak Türkiye'ye sığındı. Ben de şimdi ailemle beraber ülkemi terk edip Türkiye'ye sığınmak zorunda kalıyorum.

Zübeyir ve ailesinin gerçekleştirdiği göç hareketi aşağıdakilerden hangisine örnek oluşturmaz?

- A) Dış göç                      B) Mevsimlik göç  
C) Mülteci göçü              D) Zorunlu göç

19. Aşağıda ülkemizin yıllara göre nüfusu ve nüfus artış hızının gösterildiği grafik verilmiştir:



Verilen grafiğe göre, aşağıdaki ifadelerden hangisine ulaşamaz?

- A) Nüfus artış hızında, yaşanan göçler etkili olmuştur.    B) Nüfus artış hızında dalgalanmalar görülmüştür.  
C) 2008-2010 yılları arasında nüfus artış hızı artmıştır.    D) 2019 yılında toplam nüfus 82 milyon civarındadır.

20.



#### V. Yerleşme ve seyahat hürriyeti

**MADDE 23** — Herkes, yerleşme ve seyahat hürriyetine sahiptir.

Yerleşme hürriyeti, suç işlenmesini önlemek, sosyal ve ekonomik gelişmeyi sağlamak, sağlıklı ve düzenli kentleşmeyi gerçekleştirmek ve kamu mallarını korumak; seyahat hürriyeti, suç soruşturma ve kovuşturması sebebiyle ve suç işlenmesini önlemek amaçlarıyla kanunla sınırlanabilir. Vatandaşın yurt dışına çıkma hürriyeti, ancak vatandaşlık ödevi ya da ceza soruşturması veya kovuşturması gereği sınırlanabilir.

Vatandaş sınır dışı edilemez ve yurda girme hakkından yoksun bırakılamaz.

Verilen anayasa maddesine göre yerleşme ve seyahat özgürlüğümüz hangi durumlarda kısıtlanamaz?

- A) Düzenli kentleşmeyi sağlamak                      B) Suç işlenmesini önlemek  
C) Sosyal ve ekonomik gelişmeyi sağlamak              D) Yasalara uygun olarak istediğimiz yerde yaşamak